

ESCA Inicio 1° año

1. Marcá la descomposición polinómica correcta para 308.015

- $3 \times 10^5 + 8 \times 10^3 + 15 \times 10$
- $3 \times 10^5 + 8 \times 10^4 + 15$
- $3 \times 10^5 + 8 \times 10^3 + 15$

2. Una escuela necesita comprar materiales para equipar el salón de actos y solicitó un presupuesto a una casa de insumos. El comercio envió el siguiente listado de precios:

- 250 sillas a \$25.000 cada una.
- 1 telón a \$180.000.
- 4 micrófonos a \$50.000 cada uno.

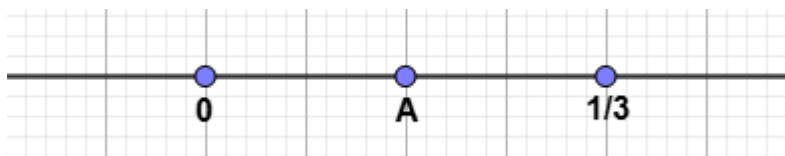
Marcá el cálculo que te permite determinar cuánto dinero deberá gastar la escuela en total.

- $250 \times 25.000 + 180.000 + 4 \times 50.000 =$
- $(250 + 25.000) \times 180.000 + 4 + 50.000 =$
- $250 \times (25.000 + 180.000) + 4 \times 50.000 =$

3. El resultado de $15 \times 18 =$

- Tiene resto 0 al dividirlo por 6
- El resultado es múltiplo de 4

4. Marcá la fracción que representa la letra A



- $\frac{1}{2}$
- $\frac{2}{3}$
- $\frac{1}{6}$

5. Marcá el resultado correcto para el cálculo $\frac{2}{4} \times \frac{3}{2} =$

- $\frac{3}{4}$
- $\frac{4}{12}$
- $\frac{5}{6}$

6. Marcá el resultado del cálculo $1,3 \times 4 =$

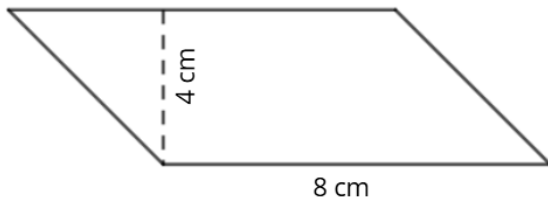
- 4,12
- 5,2
- 4,3

7. a. Marcá qué figura tiene cuatro ángulos rectos y sus diagonales no se cortan de forma perpendicular.

- Cuadrado
- Rectángulo
- Rombo
- Paralelogramo

b. Explicá cómo te diste cuenta

8. Marcá el cálculo que te permite averiguar el área del paralelogramo



- 8×4
- $8 \times 2 + 4 \times 2 =$
- $(8 \times 4) : 2$

9. En un frasco hay 12.000 confites. Marcá la cantidad de confites de cada color que representa cada uno de los porcentajes para completar la tabla correctamente.

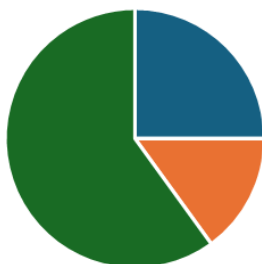
Color de los confites	Porcentaje	Cantidad de confites
Rojos	50%	
Verdes	25%	

- Rojo: 9.000 y Verde: 3.000
- Rojo: 6.000 y Verde: 3.000
- Rojo: 6.000 y Verde: 4.000

10. Determiná cuál de los siguientes gráficos representa los datos de la tabla.

Libros	Revistas	Diarios
35 %	15%	50%

• Gráfico 1



■ Libros ■ Revistas ■ Diarios

• Gráfico 2



■ Libros ■ Revistas ■ Diarios

• Gráfico 3



■ Libros ■ Revistas ■ Diarios



Escuelas En Foco

EQUIPO DE MATEMÁTICA